

Devoir 3

1. Réponds aux questions en utilisant le nombre suivant :

7 345

a) Quel est le chiffre à la position des dizaines? 4

u. M c. d. u.

b) Quelle est la valeur du 3? 300
position des centaines

c) Quelle est la valeur du 7? 7000
position des unités de milles

d) Quelle est la valeur du 4? 40
position des dizaines

e) Combien de dizaines en tout? 734

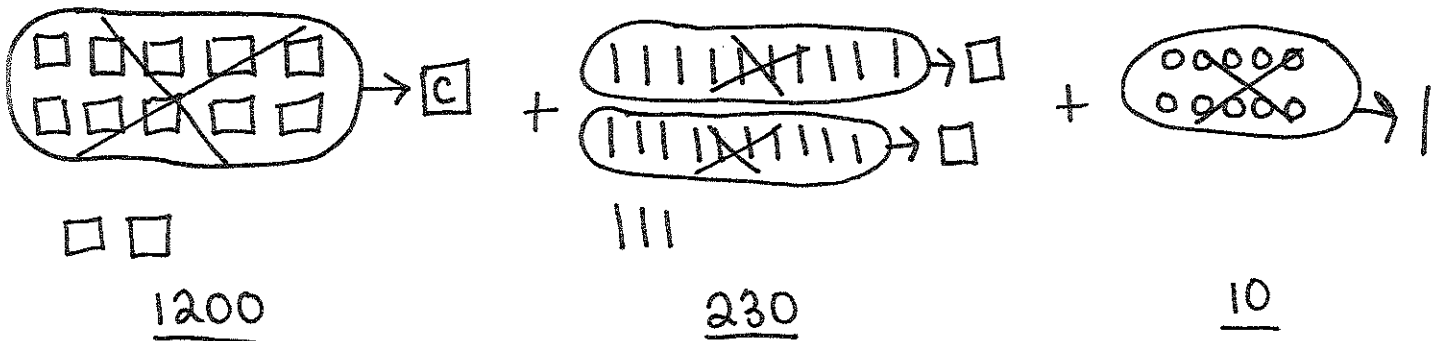
7345
d.

f) Combien de centaines en tout? 73

7345
c.

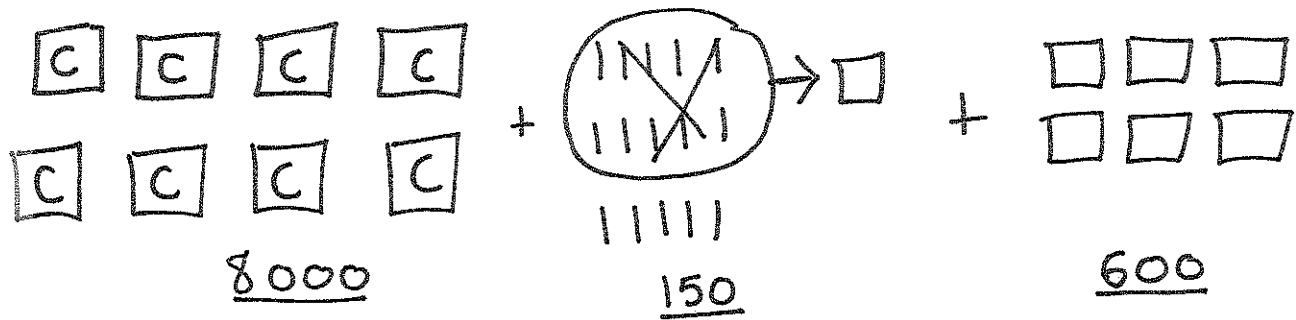
2. Quel est le nombre?

a) 12 centaines + 23 dizaines + 10 unités = 1440



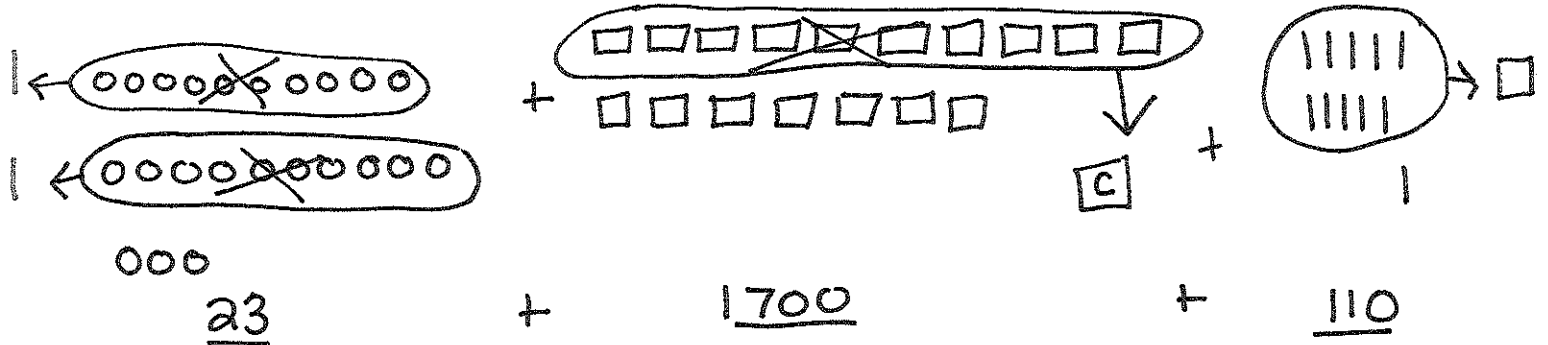
= 1200 + 230 + 10
= 1430 = 1440

b) 8 unités de milles + 15 dizaines + 6 centaines = 8750



8000 + 150 + 600 = 8750

c) 23 unités + 17 centaines + 11 dizaines = 1833



23 + 1700 + 110 = 1833

3. Regarde l'exemple et remplis le tableau suivant en faisant ce qui est demandé. N'oublie pas d'ajouter ta phrase mathématique.

2625	Enlève 2 centaines (-) 200	2625 - 200 = 2425
1687	Ajoute 3 centaines et 1 dizaine (+) 300 + 10	1687 + 300 + 10 = 1987 + 10 = 1997
9999	Enlève 45 unités (-) 45	9999 - 45 = 9954
5243	Ajoute 1 centaine et 8 dizaines (+) 100 + 80	5243 + 100 + 80 = 5243 + 180 = 5423