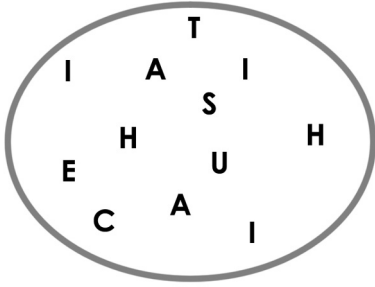
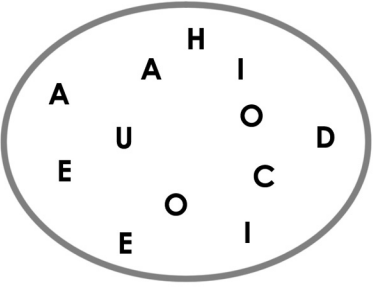
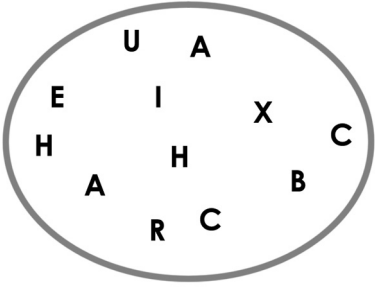
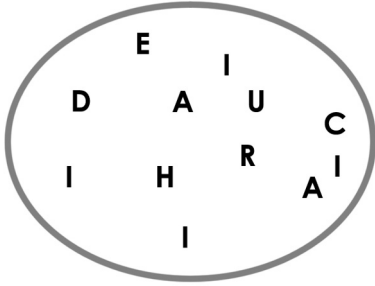
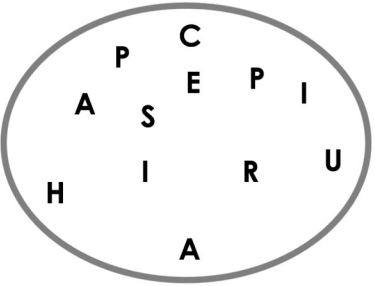
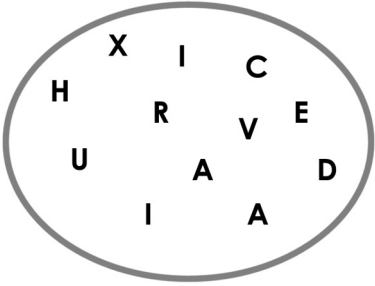


La soupe à l'alphabet

1 Observe les bols de soupe à l'alphabet, puis réponds aux questions ci-dessous.

<p>Bol 1</p> 	<p>Bol 2</p> 	<p>Bol 3</p> 
<p>Bol 4</p> 	<p>Bol 5</p> 	<p>Bol 6</p> 

Léonie prend une cuillerée de soupe contenant 7 lettres.

a) Dans quel bol a-t-elle le plus de chances de prendre des voyelles ?

Le bol 2

b) Dans quel bol a-t-elle le moins de chances de prendre des voyelles ?

Le bol 3

c) Dans quels bols a-t-elle autant de chances de prendre des voyelles que des consonnes ? Le bol 5 et le bol 6

d) Dans quel bol est-il probable qu'elle forme le mot *chapeau* avec ses lettres ? Le bol 5

e) Dans quel bol est-il moins probable qu'elle prenne la lettre *i* ? Le bol 3